

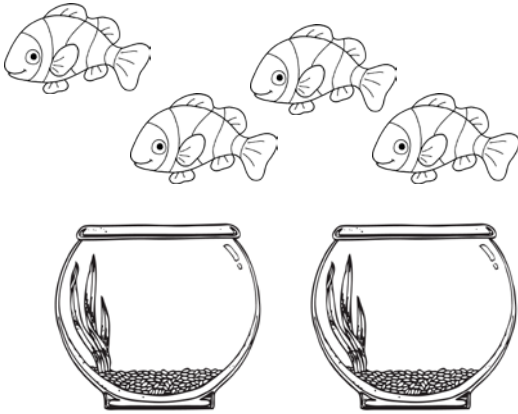


ΔΗΜΟΤΙΚΟ ΣΧΟΛΕΙΟ

Όνομα: _____ Τάξη: _____

Διαίρεση

1. Μοίρασε τα ψάρια στις γυάλες. Σε κάθε γυάλα πρέπει να βάλεις τον ίδιο αριθμό από ψάρια. Συμπλήρωσε τις προτάσεις.




Υπάρχουν ψάρια.

Τα μοίρασα σε γυάλες.

Σε κάθε γυάλα έβαλα ψάρια.

$$\square \div \square = \square$$




Υπάρχουν ψάρια.

Τα μοίρασα σε γυάλες.

Σε κάθε γυάλα έβαλα ψάρια.

$$\square \div \square = \square$$




Υπάρχουν ψάρια.

Τα μοίρασα σε γυάλες.

Σε κάθε γυάλα έβαλα ψάρια.

$$\square \div \square = \square$$




Υπάρχουν ψάρια.

Τα μοίρασα σε γυάλες.

Σε κάθε γυάλα έβαλα ψάρια.

$$\square \div \square = \square$$




Υπάρχουν ψάρια.

Τα μοίρασα σε γυάλες.

Σε κάθε γυάλα έβαλα ψάρια.

$$\square \div \square = \square$$




Υπάρχουν ψάρια.

Τα μοίρασα σε γυάλες.

Σε κάθε γυάλα έβαλα ψάρια.

$$\square \div \square = \square$$




Υπάρχουν ψάρια.

Τα μοίρασα σε γυάλες.

Σε κάθε γυάλα έβαλα ψάρια.

$$\square \div \square = \square$$




Υπάρχουν ψάρια.

Τα μοίρασα σε γυάλες.

Σε κάθε γυάλα έβαλα ψάρια.

$$\square \div \square = \square$$




Υπάρχουν ψάρια.

Τα μοίρασα σε γυάλες.

Σε κάθε γυάλα έβαλα ψάρια.

$$\square \div \square = \square$$



Υπάρχουν ψάρια.

Τα μοίρασα σε γυάλες.

Σε κάθε γυάλα έβαλα ψάρια.

$$\square \div \square = \square$$