

# Πολλαπλασιασμός με... το μαγικό ψαράκι!

ΣΕΛΙΔΑ 1

α. Πόσα ψάρια έχει στα καλάθια του ο ψαράς;

1



$$\bigcirc \times \bigcirc = \bigcirc$$

2



$$\bigcirc \times \bigcirc = \bigcirc$$

3




$$\bigcirc \times \bigcirc = \bigcirc$$

Όνομα: \_\_\_\_\_

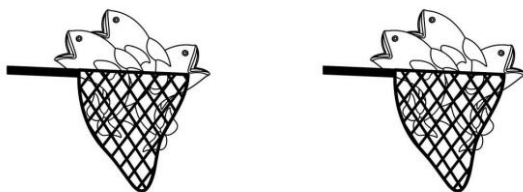
Τάξη: \_\_\_\_\_

4



$$\bigcirc \times \bigcirc = \bigcirc$$

5



$$\bigcirc \times \bigcirc = \bigcirc$$

6

Ο ψαράς ψάρεψε πολλα ψάρια! Γέμισε 4 καλάθια και στο κάθε καλάθι έβαλε 10 ψάρια. Πόσα είναι όλα τα ψάρια που ψάρεψε;

Μαθηματική πρόταση: \_\_\_\_\_

Απάντηση: \_\_\_\_\_

7


Την επόμενη μέρα ο ψαράς ψάρεψε λιγότερα ψάρια! Γέμισε 3 καλάθια και στο κάθε καλάθι έβαλε 5 ψάρια. Πόσα είναι όλα τα ψάρια που ψάρεψε;

Μαθηματική πρόταση: \_\_\_\_\_

Απάντηση: \_\_\_\_\_


Ψαράκια σε σειρές: Πόσα είναι τα ψαράκια; Κύκλωσε και συμπλήρωσε.

8




$$\bigcirc \times \bigcirc = \bigcirc$$

9



$$\bigcirc \times \bigcirc = \bigcirc$$

10



$$\bigcirc \times \bigcirc = \bigcirc$$